



3×5

5×3

$3 + 5$

$5 + 5 + 5$

$3 + 3 + 3 + 3 + 3$

$5 + 3$

Reconnaître une situation multiplicative.

Complète pour trouver le nombre de carreaux.



$2 \times 3 = 3 \times 2 = 6$



$3 \times 4 = 4 \times 3 = 12$

Trouver et calculer un produit.


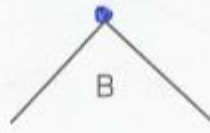

Calcule les produits en utilisant l'addition.

$2 \times 4 = 4 + 4 \text{ ou } 2 + 2 + 2 + 2 \dots ; 4 \times 5 = 5 + 5 + 5 + 5 \text{ ou } 4 + 4 + 4 + 4 + 4$

Utiliser l'addition répétée pour calculer un produit.

Tracer et géométrie

Reconnais une équerre. Dessine un point bleu au sommet de l'angle droit.



Repérer un angle droit.

Dessine un angle droit. Son sommet et un côté sont déjà tracés.



Tracer un angle droit dont le sommet et un côté sont déjà tracés.