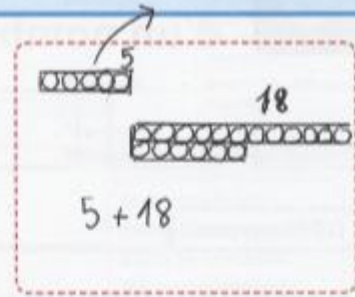


6

PROBLÈME Théo arrive à l'école avec un sac de billes. Il perd 5 billes à la récréation. Il a maintenant 18 billes. Combien de billes avait-il en arrivant à l'école ?

..... $18 + 5 = 23$

En arrivant à l'école, Théo avait ...23 billes.




Résoudre un problème du champ additif : recherche de l'état initial.

Grandeurs et mesures

7

Mesure la longueur du segment orange.



Utiliser la règle graduée pour mesurer une longueur en cm.

Espace et géométrie

8

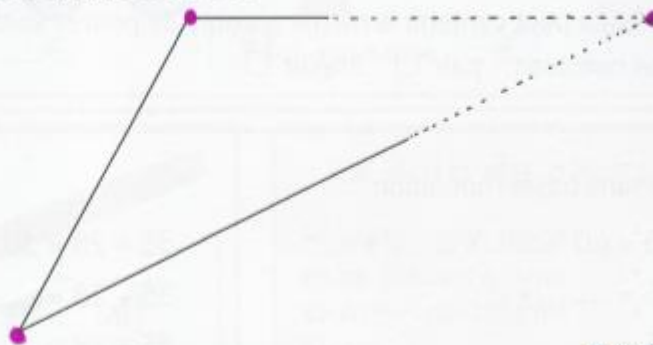
Colorie les polygones en jaune.



Identifier des polygones.

9

Prolonge les segments à l'aide de ta règle pour obtenir un triangle. **Dessine** un point rouge sur chaque sommet.



Tracer des triangles.